

OLIMPIADA ȘCOLARĂ DE GEOGRAFIE
ETAPA JUDEȚEANĂ/A SECTOARELOR MUNICIPIULUI BUCUREȘTI
23 martie 2025

CLASA a X-a

- **Toate subiectele sunt obligatorii. Se acordă 10 puncte din oficiu.**
- **Timpul de lucru efectiv este de 3 ore.**

Subiectul I (20 puncte)

Scrieți, pe foaia de concurs, litera corespunzătoare răspunsului corect pentru fiecare dintre afirmațiile de mai jos:

1. Așezarea situată la cea mai mare altitudine, pe Glob, este:
a. Chacaltaya b. Chamonix c. Quito d. Predeal
2. O țară fără ieșire la mare este:
a. Botswana b. Eritreea c. Kuweit d. Uruguay
3. Orașul Hartford face parte din megalopolisul:
a. Australian b. Boswash c. Marilor Lacuri d. Midlands
4. Un stat cu populație preponderent masculină este:
a. Qatar b. Rusia c. Uganda d. Yemen
5. Un teritoriu dependent, insular, administrat de către Regatul Unit, este:
a. Aruba b. Diego Garcia c. Mayotte d. St. Pierre și Miquelon
6. Un centru spiritual pentru religia islamică este orașul:
a. Benares b. Lhasa c. Medina d. Roma
7. Gruparea de state și teritorii, cunoscută sub denumirea de „cei patru tigri asiatici” cuprinde:
a. Coreea de Sud, Hong Kong, Singapore, Taiwan
b. Coreea de Sud, Japonia, Singapore, Taiwan
c. China, Coreea de Sud, Hong Kong, Singapore
d. Coreea de Sud, Japonia, Indonezia, Singapore
8. Din gruparea statelor magrebiene face parte statul:
a. Ciad b. Liberia c. Mauritania d. Sudan
9. Teritoriul etnic al kurzilor cuprinde areale din statele:
a. Afganistan, Iran, Irak b. Iran, Irak, Turcia
c. Afganistan, Irak, Turcia d. Iran, Iordania, Turcia
10. Din familia lingvistică altaică fac parte limbile:
a. hindi și turcă b. kurdă și mongolă
c. kurdă și turcă d. mongolă și turcă

20 puncte

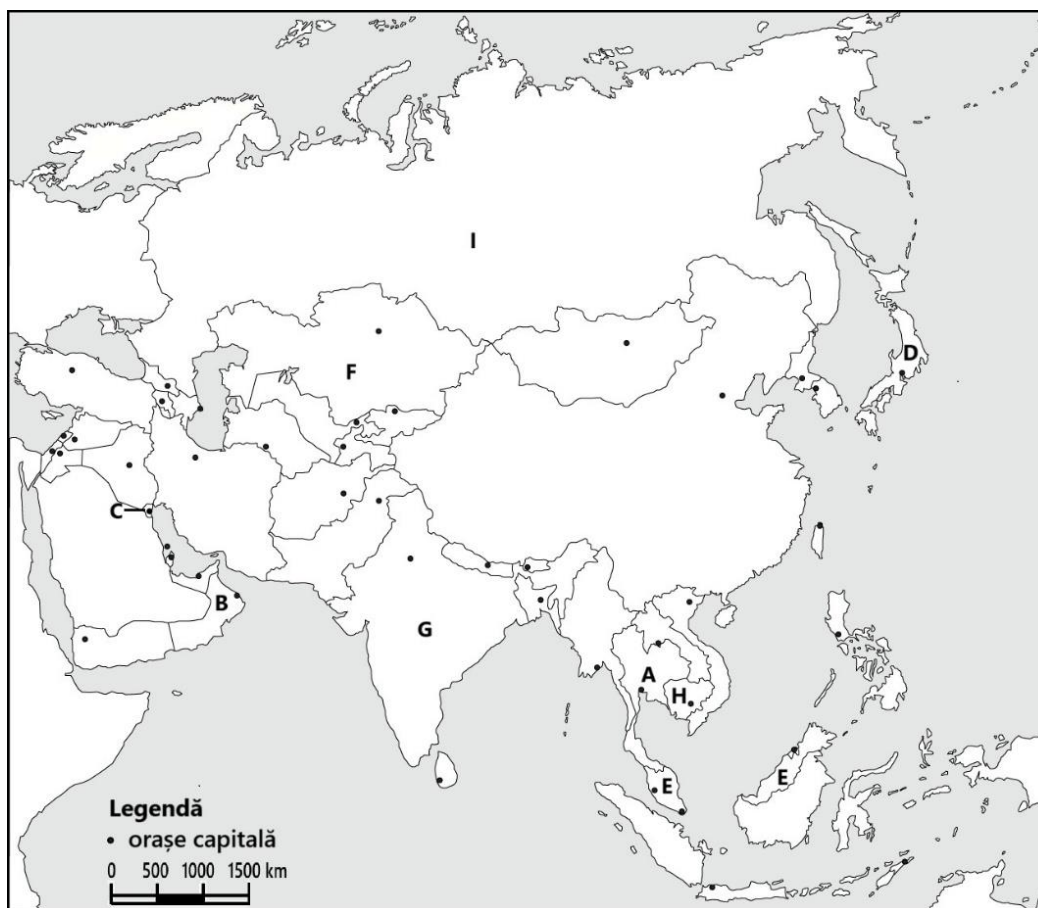
Subiectul al II-lea (22 puncte)

A. Textul de mai jos prezintă principalele caracteristici ale formei de guvernământ din statele reprezentate pe hartă cu litere de la **A** la **E**.

„Monarhia este o formă de guvernământ în care conducerea statului revine, total sau parțial, unei singure persoane – monarhul. Monarhii pot fi autocrați sau ceremoniali și au titluri specifice, stabilite prin tradiție și garantate de constituția statului.”

Pe baza textului și a hărții, precizați:

- a. două tipuri de monarhii existente în Asia;
- b. un exemplu de stat pentru fiecare tip de monarhie;
- c. denumirea titlului monarhic în statele marcate, pe hartă, cu literele **A**, **B**, **C** și **D**;
- d. particularitatea monarhiei din statul marcat, pe hartă, cu litera **E**.



B. Enunțurile de mai jos, numerotate cu cifrele **1, 2, 3** și **4** se referă la caracteristicile unor tipuri de locuințe (așezări rurale/peisaje rurale) din continentul Asia, redată în imaginile **a, b, c** și **d**, locuințe care sunt specifice statelor marcate pe harta de mai sus cu litere de la **F** la **I**:

1. Casele sunt construite din lemn, cu decorațiuni frumoase sculptate și vopsite în culori vii.
2. Modul de construire a locuințelor asigură protecție împotriva inundațiilor, animalelor sălbatice sau a inamicilor.
3. Locuințe cilindrice din țărugi bătuți în pământ și acoperite cu păături de pânslă, ce pot fi instalate și strânse cu ușurință.
4. Sunt realizate dintr-un amestec de lut și paie, au ziduri groase pentru confort termic.



Utilizând harta, enunțurile și imaginile alăturate:

- a. menționați tipul de locuință (așezare rurală/peisaj rural) reprezentat în imaginile marcate cu literele **a, b, c** și **d**;
- b. precizați tipul de mediu de viață în care este localizat fiecare peisaj rural identificat la subpunctul **a**;
- c. realizați corespondența dintre enunțurile numerotate cu cifre de la **1** la **4**, cu imaginile reprezentative, notate cu litere de la **a** la **d** și statele corespunzătoare marcate, pe hartă, cu litere de la **F** la **I**.

Răspunsul va avea forma: 5 – e – J.


22 puncte

Subiectul al III-lea (20 puncte)

În imaginile de mai jos, notate cu literele **A** și **B**, sunt ilustrate aspecte care vizează dinamica populației.



Sursa: Manual Ed. Dacia



Sursa: Manual Ed. Dacia

- Pe baza imaginii **A**, care face referire la cel mai întins stat din Africa Centrală, răspundeți următoarelor cerințe:
 - numiți statul, capitala și forma de guvernământ;
 - precizați denumirea tipului de dinamică a populației;
 - menționați o cauză care generează dinamica și o țară de origine a migranților;
- Pe baza imaginii **B**, care redă o structură urbană, răspundeți următoarelor cerințe:
 - precizați tipul de dinamică a populației care a determinat tipul de structură ilustrat;
 - menționați trei obstacole cu care se confruntă migranții ca adaptare la noul mediu de viață;
 - prezentați două probleme cu care se confruntă autoritățile, ca răspuns la consecințele generate de această formă de migrație;
 - precizați denumirea a patru structuri urbane și a continentelor/statelor în care apar, ca urmare a acestui tip de migrație.

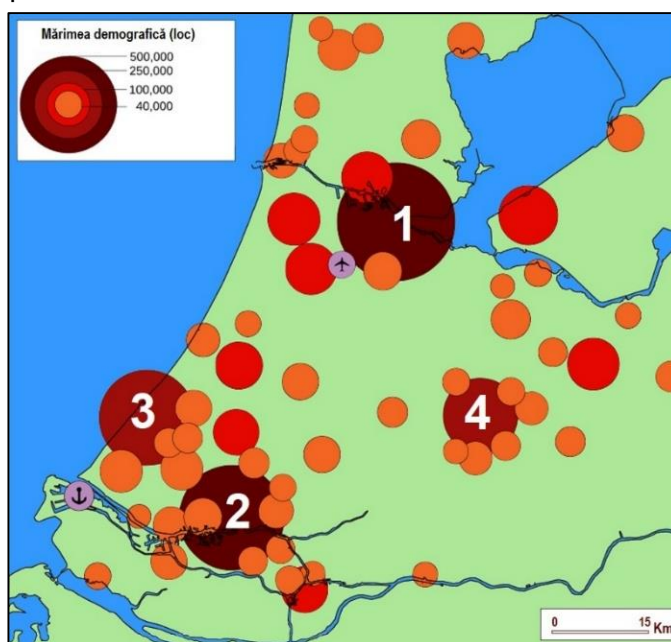
20 puncte

Subiectul al IV-lea (16 puncte)

În reprezentarea de mai jos sunt ilustrate cele mai importante orașe dintr-o formă de concentrare/aglomerare urbană din vestul Europei continentale.

Cu privire la forma de concentrare/aglomerare urbană, precizați:

- tipul de concentrare/aglomerare urbană;
- denumirea concentrării/aglomerării urbane;
- numele oficial al statului în care se dezvoltă;
- denumirea orașelor marcate cu cifrele 1, 2, 3 și 4;
- funcția principală a orașului marcat cu cifra 2;
- tipurile de capitală pentru orașele marcate cu cifrele 1 și 3;
- doi factori care au determinat apariția și dezvoltarea concentrării/aglomerării urbane;
- două avantaje și două dezavantaje ale locuirii în acest tip de concentrare/aglomerare urbană.



16 puncte

Subiectul al V-lea (12 puncte)

Textul și segmentul de hartă de mai jos prezintă principalele caracteristici ale unei regiuni din Africa. „Această zonă cuprinsă între 10° și 27° latitudine nordică, se desfășoară longitudinal din apropierea Oceanului Atlantic, până la Marea Roșie și Oceanul Indian. Cuprinde părți importante din câteva state africane, considerate cele mai sărace din lume”.



Precizați:

- denumirea acestei zone;
- numele a trei state din această zonă;
- denumirea capitalelor statelor care au ieșire la Marea Roșie;
- două caracteristici ale mediului de viață specific zonei;
- denumirea unei populații nomade din zona identificată;
- activitatea economică a populației identificată la punctul anterior;
- tipul de populație predominantă, în funcție de vârstă;
- un fenomen specific dinamicii naturale a populației țărilor din această zonă.

12 puncte